

# BACCALAURÉAT GÉNÉRAL

**Session 2025**

**Épreuve :  
Histoire-Géographie**

**Séries : L et ES**

**Durée de l'épreuve**

**Série L : 4 heures**

**Série ES : 4 heures**

**Coefficient**

**Série L : 4**

**Série ES : 6**

**L'usage du téléphone portable et de la calculatrice n'est pas autorisé.**

**Le candidat doit traiter UN des deux sujets de Géographie de la première partie et UN des deux sujets d'Histoire de la deuxième partie.**

**Ce sujet comporte 5 pages numérotées de 1 sur 5 à 5 sur 5.  
Dès réception du sujet, assurez-vous qu'il soit complet.**

**Première partie de l'épreuve.**  
**HISTOIRE**  
**Notée sur 10 points**

Le candidat traite UN des DEUX sujets de composition proposés.

**Sujet 1 :** Naissance et consolidation de la République de Djibouti de 1977 à 1990.

Ou

**Sujet 2 :** La décolonisation de l'Afrique : un processus uniforme ou des trajectoires diverses ?

**Deuxième partie de l'épreuve**  
**GÉOGRAPHIE**  
**Notée sur 10 points**

Le candidat traite UN des DEUX sujets proposés.  
**Analyse de documents géographiques.**

**Sujet 1 :** Les trafics illicites dans un monde globalisé : acteurs, flux et impacts

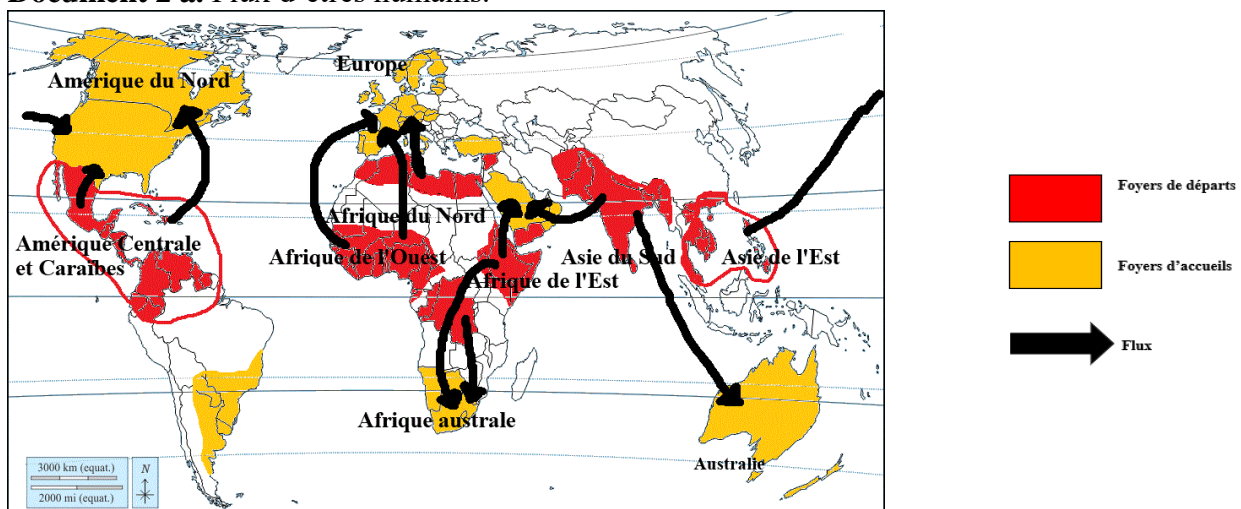
**Document 1.** Flux du trafic de la drogue

Les observations mettent en évidence les principaux pays producteurs de cocaïne (Colombie, Pérou, Bolivie), du cannabis (Maroc, Mexique et l'Asie centrale) et d'opium (Afghanistan, Pakistan) à la mi-2018 à 2020. [...] Elles révèlent également les principaux axes de trafic de ces substances illicites à travers le monde. Ces produits empruntent différents moyens (principalement la voie maritime, à travers les conteneurs). On observe notamment d'importants flux de cocaïne vers l'Amérique du Nord et l'Europe (zones de consommations), tandis que l'héroïne produite en Asie du Sud est principalement destinée au marché européen.

Les données mettent en lumière les limites de la lutte contre le trafic de drogues. Malgré les efforts déployés par les autorités internationales, les réseaux criminels parviennent à s'adapter et à trouver de nouvelles routes. La mondialisation et la complexification des échanges favorisent cette dynamique, rendant la lutte contre le narcotrafic particulièrement difficile.

Source : D'après l'ONUDC (Office des Nations Unies contre la Drogue et le Crime), 2015-2019

**Document 2 a.** Flux d'êtres humains.



**Document 2 b.** Des migrants africains en Méditerranéen sur une embarcation dangereuse en direction de l'Europe.



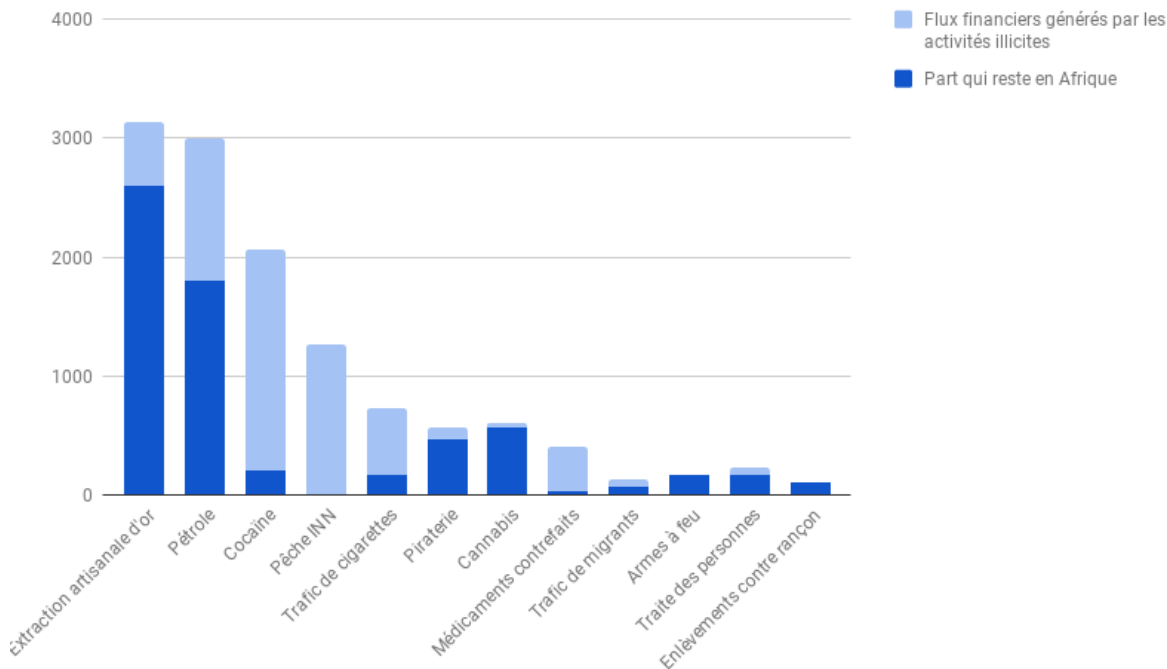
Source : Getty Images / AFP/FETHI BELAID, 4 Octobre 2022.

**Document 3.** Tableau des impacts économiques et sociaux des trafics illicites.

Type de trafic	Impact économique	Impact social	Impact environnemental
Drogues	Blanchiment d'argent, économie souterraine	Violence, addiction	Déforestation (coca, pavot)
Armes	Instabilité politique, financement des conflits	Conflits armés, insécurité	
Êtres humains	Travail clandestin, exploitation	Violations des droits humains	
Espèces protégées	Commerce illégal de la faune et de la flore	Menace sur la biodiversité	Disparition d'espèces

Source : Tableau de synthèse d'après des données publiées par l'ONU DC (Office des Nations Unies contre la Drogue et le Crime)

**Document 4.** Estimations des flux financiers issus des activités criminelles qui restent en Afrique (millions de dollars).



On ne sait pas trop combien les activités illicites et criminelles coûtent à l'Afrique. À l'Union africaine, on parle de 50 milliards de dollars par an. D'autres experts avancent le chiffre de 100 milliards. Le mérite du rapport Flux financiers illicites – L'économie du commerce illicite en Afrique de l'Ouest, publié le 20 mars 2018 par l'OCDE est de ne pas se contenter de chiffres forcément sujet à caution puisque ces activités sont dissimulées.

Le graphique montre que tous les trafics ne profitent pas à la région. Par exemple, l'argent de l'extraction sauvage d'or (Ghana, Burkina Faso, Mali), des détournements de pétrole (Nigeria) reste en majeure partie dans des mains africaines, même si les États y perdent de précieuses recettes. En revanche, le trafic d'héroïne en provenance de Colombie et à destination de l'Europe tout comme la pêche illicite ne profitent en rien à l'Afrique de l'Ouest.

La conclusion du rapport est que les pays africains et les pays de l'OCDE doivent collaborer d'urgence en renforçant les institutions et les lois luttant contre ces trafics, mais aussi en combattant l'extrême pauvreté qui est le terreau de cette criminalité.

Source : Rapport de l'OCDE, publié par *Jeune Afrique*, 2018.

### Questions.

- 1) Quels sont les principaux pays producteurs de cocaïne, de cannabis et d'opium mentionnés dans le document 1 ? Vers quelles régions du monde ces drogues sont-elles principalement acheminées ? (Document 1)
- 2) Quels sont les risques encourus par les migrants clandestins qui font appel à ces réseaux ? Quelles sont les conséquences de cette migration sur les sociétés d'accueil ? (Documents 2 a et 2 b)
- 3) En vous appuyant sur le tableau du document 3, citez un exemple d'impact économique, social et environnemental pour chacun des types de trafic mentionnés (drogues, armes, êtres humains, espèces protégées).
- 4) D'après le document 4, quels sont les deux chiffres avancés pour estimer les pertes financières liées aux activités illicites en Afrique ?
- 5) Pourquoi selon vous, la lutte contre le trafic de drogues est-elle difficile malgré les efforts internationaux ? (Documents 1 et 4)

# Croquis

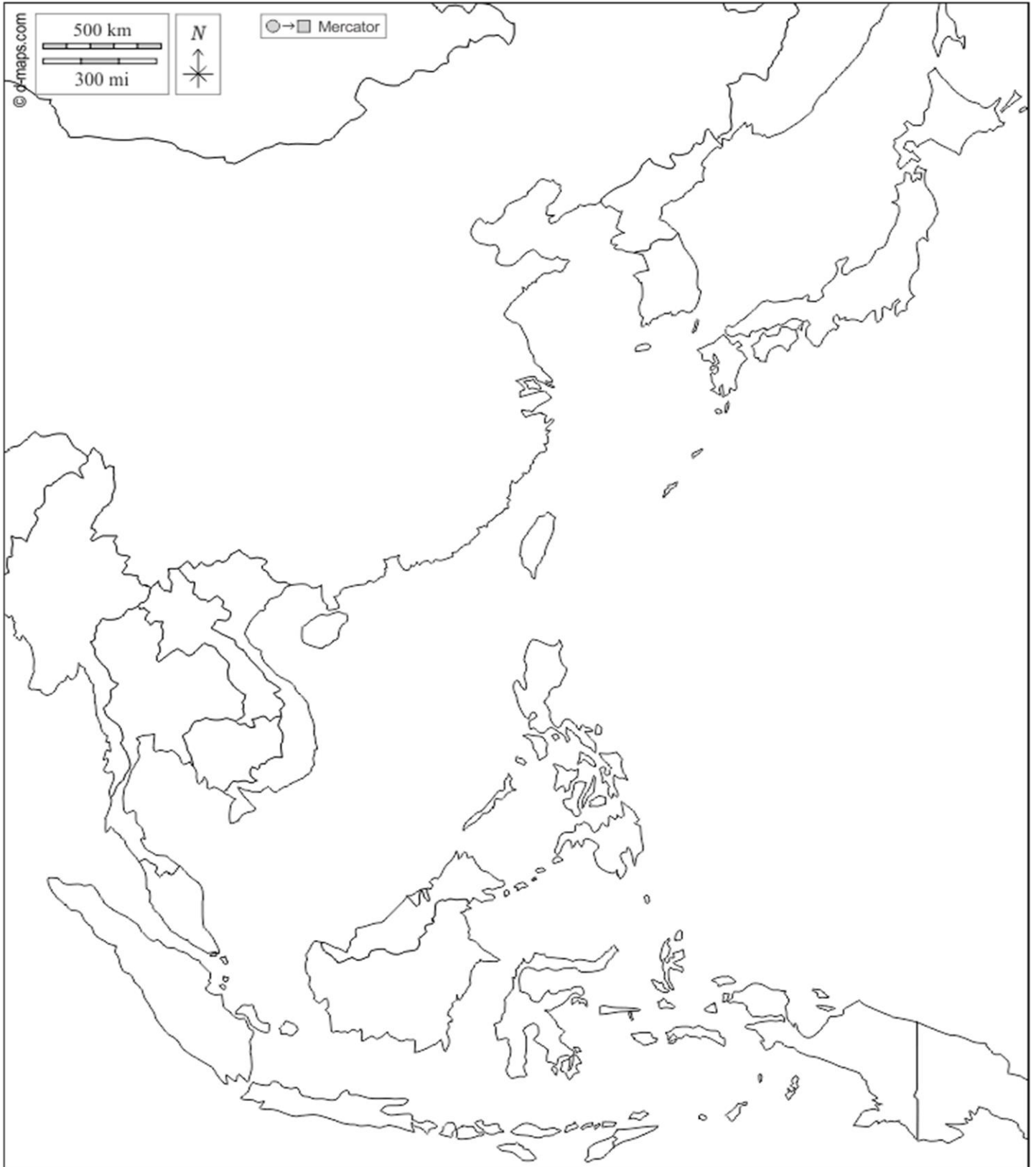
## Sujet 2 : Organisation spatiale de l'Asie Orientale

À rendre avec la feuille d'examen

Nom du candidat : .....

Numéro d'inscription : .....

Titre du croquis : .....



**À rendre avec la feuille d'examen**

Nom du candidat : .....

Numéro d'inscription : .....

**Partie réservée à la légende.**